

# СИСТЕМА ТРЕНИРОВКИ ЛОГИЧЕСКОГО МЫШЛЕНИЯ

МАКСИМАЛЬНЫЙ РЕЗУЛЬТАТ ЗА 21 ДЕНЬ

5+

МАЙНА-ФИТНЕС / РАБОЧАЯ ТЕТРАДЬ №3



ЗАДАЧИ НА ПРОСТЫЕ УМОЗАКЛЮЧЕНИЯ



ЗЕРКАЛЬНОЕ ОТРАЖЕНИЕ



КОМБИНАЦИИ ТЕНЕЙ



ЛОГИЧЕСКИЕ РЯДЫ

СИСТЕМА ТРЕНИРОВКИ РАЗВИТИЯ ЛОГИКИ: День 2

СИСТЕМА ТРЕНИРОВКИ РАЗВИТИЯ ЛОГИКИ: День 10

СИСТЕМА ТРЕНИРОВКИ РАЗВИТИЯ ЛОГИКИ: День 9

СИСТЕМА ТРЕНИРОВКИ РАЗВИТИЯ ЛОГИКИ: День 5

1. ВЫБЕРИ ВЕРНОЕ ЗЕРКАЛЬНОЕ ОТРАЖЕНИЕ ОБЪЕКТА

2. ЗАДАЧА НА ПРОСТЫЕ УМОЗАКЛЮЧЕНИЯ.

3. НАЙДИ ПРАВИЛЬНУЮ ТЕНЬ

4. РАЗЛАГАЙ КОМБИНАЦИИ ТЕНЕЙ

5. ПРОДОЛЖИ ЛОГИЧЕСКИЙ РЯД

КОШКА МЕНЬШЕ СОБАКИ. КТО БОЛЬШЕ?

ДЕДУШКА СТАРШЕ БАБУШКИ. КТО МОЛОЖЕ?

МАРИНУ ЖДЕТ ВОДА. КТО ОБАЗЫВАЕТ?

МАЛЫШЕ ВАШЕ ДЕТЯЧКА. КТО НЕЖЕ?

МАРИНА И ВОДА

МАЛЫШ И ДЕВЧОНКА

МИША И ЮРА

©MATH\_WARS @UVEKATELNOE\_OBYCHENIE

АВТОРСКАЯ РАЗРАБОТКА @SOLDATOVA\_ELENA\_ & @MATH\_WARS

Система тренировки логического мышления  
для детей от 5 лет

Рабочая тетрадь

Имя \_\_\_\_\_

# СИСТЕМА ТРЕНИРОВКИ РАЗВИТИЯ ЛОГИКИ: День 1

1. ВЫБЕРИ ВЕРНОЕ ЗЕРКАЛЬНОЕ ОТОБРАЖЕНИЕ ОБЪЕКТА




- 1.
- 2.
- 3.

2. ЗАДАЧА НА ПРОСТОЕ УМОЗАКЛЮЧЕНИЕ.

ВАНЯ ШЁЛ  
ВПЕРЕДИ ПЕТИ.  
КТО ШЁЛ  
ПОЗАДИ?



- ВАНЯ
- ПЕТЯ

3. НАЙДИ ПРАВИЛЬНУЮ ТЕНЬ



- 1.
- 2.
- 3.
- 4.

4. РАЗГАДАЙ КОМБИНАЦИЮ ТЕНЕЙ



5. ПРОДОЛЖИ ЛОГИЧЕСКИЙ РЯД

				<input type="text"/>
				<input type="text"/>
				<input type="text"/>

# СИСТЕМА ТРЕНИРОВКИ РАЗВИТИЯ ЛОГИКИ: День 2

1. ВЫБЕРИ ВЕРНОЕ ЗЕРКАЛЬНОЕ ОТОБРАЖЕНИЕ ОБЪЕКТА




2. ЗАДАЧА НА ПРОСТОЕ УМОЗАКЛЮЧЕНИЕ.


ЛЕС ПОЗАДИ  
ДОМА.  
Что впереди?

- ЛЕС
- ДОМ


3. НАЙДИ ПРАВИЛЬНУЮ ТЕНЬ



4. РАЗГАДАЙ КОМБИНАЦИЮ ТЕНЕЙ

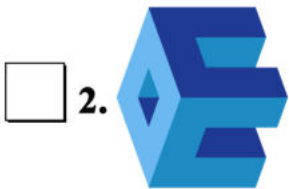


5. ПРОДОЛЖИ ЛОГИЧЕСКИЙ РЯД



# СИСТЕМА ТРЕНИРОВКИ РАЗВИТИЯ ЛОГИКИ: День 3

1. ВЫБЕРИ ВЕРНОЕ ЗЕРКАЛЬНОЕ ОТОБРАЖЕНИЕ ОБЪЕКТА



2. ЗАДАЧА НА ПРОСТОЕ УМОЗАКЛЮЧЕНИЕ.


АВТОБУС  
ВПЕРЕДИ  
ГРУЗОВИКА.  
Что позади?

- АВТОБУС  
 ГРУЗОВИК

3. НАЙДИ ПРАВИЛЬНУЮ ТЕНЬ



4. РАЗГАДАЙ КОМБИНАЦИЮ ТЕНЕЙ

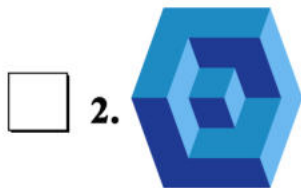


5. ПРОДОЛЖИ ЛОГИЧЕСКИЙ РЯД



# СИСТЕМА ТРЕНИРОВКИ РАЗВИТИЯ ЛОГИКИ: День 4

1. ВЫБЕРИ ВЕРНОЕ ЗЕРКАЛЬНОЕ ОТОБРАЖЕНИЕ ОБЪЕКТА



2. ЗАДАЧА НА ПРОСТОЕ УМОЗАКЛЮЧЕНИЕ.


КОШКА МЕНЬШЕ  
СОБАКИ.  
КТО БОЛЬШЕ?

- КОШКА
- СОБАКА


3. НАЙДИ ПРАВИЛЬНУЮ ТЕНЬ



4. РАЗГАДАЙ КОМБИНАЦИЮ ТЕНЕЙ

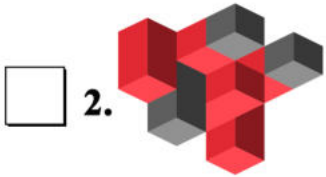
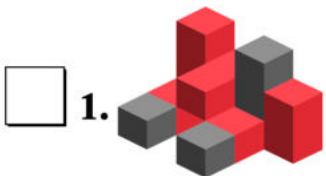


5. ПРОДОЛЖИ ЛОГИЧЕСКИЙ РЯД. НАРИСУЙ ФИГУРЫ.



# СИСТЕМА ТРЕНИРОВКИ РАЗВИТИЯ ЛОГИКИ: День 5

1. ВЫБЕРИ ВЕРНОЕ ЗЕРКАЛЬНОЕ ОТОБРАЖЕНИЕ ОБЪЕКТА



2. ЗАДАЧА НА ПРОСТОЕ УМОЗАКЛЮЧЕНИЕ.



МАЛЬЧИК ВЫШЕ  
ДЕВОЧКИ.  
КТО НИЖЕ?

- МАЛЬЧИК
- ДЕВОЧКА


3. НАЙДИ ПРАВИЛЬНУЮ ТЕНЬ



4. РАЗГАДАЙ КОМБИНАЦИЮ ТЕНЕЙ



5. ПРОДОЛЖИ ЛОГИЧЕСКИЙ РЯД. НАРИСУЙ ФИГУРЫ.



# СИСТЕМА ТРЕНИРОВКИ РАЗВИТИЯ ЛОГИКИ: День 6

1. ВЫБЕРИ ВЕРНОЕ ЗЕРКАЛЬНОЕ ОТОБРАЖЕНИЕ ОБЪЕКТА



1.       2.       3.

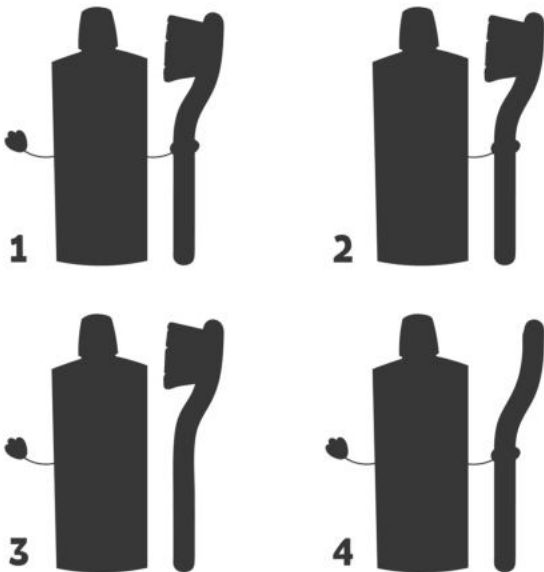



2. ЗАДАЧА НА ПРОСТОЕ УМОЗАКЛЮЧЕНИЕ.

ДЕДУШКА  
СТАРШЕ  
БАБУШКИ. КТО  
МОЛОЖЕ?

- ДЕДУШКА  
 БАБУШКА


3. НАЙДИ ПРАВИЛЬНУЮ ТЕНЬ



4. РАЗГАДАЙ КОМБИНАЦИЮ ТЕНЕЙ



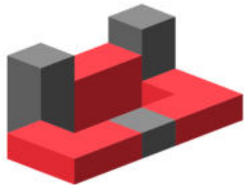
5. ПРОДОЛЖИ ЛОГИЧЕСКИЙ РЯД. НАРИСУЙ ФИГУРЫ.





# СИСТЕМА ТРЕНИРОВКИ РАЗВИТИЯ ЛОГИКИ: День 7

1. ВЫБЕРИ ВЕРНОЕ ЗЕРКАЛЬНОЕ ОТОБРАЖЕНИЕ ОБЪЕКТА



1.       2.       3.




2. ЗАДАЧА НА ПРОСТОЕ УМОЗАКЛЮЧЕНИЕ.


ДУБ ВЫШЕ  
БЕРЕЗЫ. ЧТО  
НИЖЕ?

- БЕРЕЗА
- ДУБ


3. НАЙДИ ПРАВИЛЬНУЮ ТЕНЬ



4. РАЗГАДАЙ КОМБИНАЦИЮ ТЕНЕЙ




5. ПРОДОЛЖИ ЛОГИЧЕСКИЙ РЯД. НАРИСУЙ ФИГУРЫ.




# СИСТЕМА ТРЕНИРОВКИ РАЗВИТИЯ ЛОГИКИ: День 8

1. ВЫБЕРИ ВЕРНОЕ ЗЕРКАЛЬНОЕ ОТОБРАЖЕНИЕ ОБЪЕКТА



1.       2.       3.



2. ЗАДАЧА НА ПРОСТОЕ УМОЗАКЛЮЧЕНИЕ.


К ВРАЧУ  
ПРИШЁЛ  
ДЕДУШКА.  
КТО ЗАБОЛЕЛ?

ВРАЧ  
 ДЕДУШКА

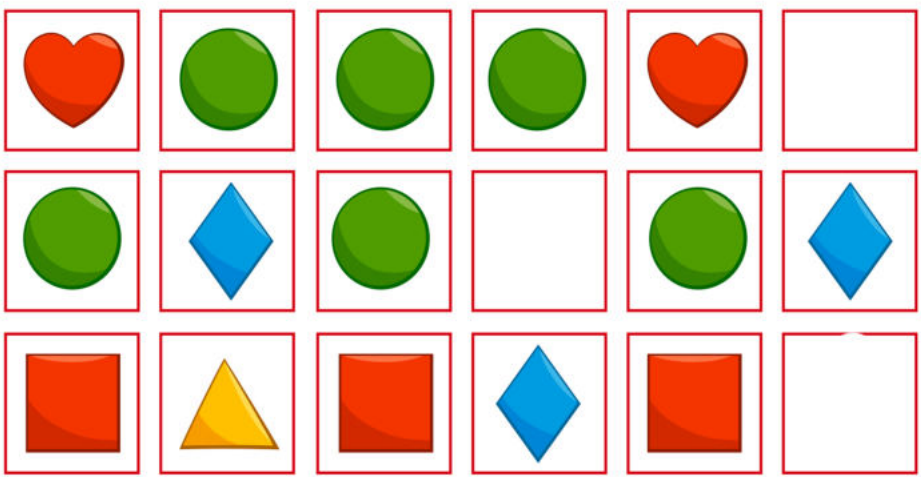
3. НАЙДИ ПРАВИЛЬНУЮ ТЕНЬ



4. РАЗГАДАЙ КОМБИНАЦИЮ ТЕНЕЙ



5. ПРОДОЛЖИ ЛОГИЧЕСКИЙ РЯД. НАРИСУЙ ФИГУРЫ.



# СИСТЕМА ТРЕНИРОВКИ РАЗВИТИЯ ЛОГИКИ: День 9

1. ВЫБЕРИ ВЕРНОЕ ЗЕРКАЛЬНОЕ ОТОБРАЖЕНИЕ ОБЪЕКТА



1.       2.       3.




2. ЗАДАЧА НА ПРОСТОЕ УМОЗАКЛЮЧЕНИЕ.

НАТАША  
НАПИСАЛА ПИСЬМО  
ПОДРУГЕ.  
КТО ПОЛУЧИЛ  
ПИСЬМО?

НАТАША  
 ПОДРУГА

3. НАЙДИ ПРАВИЛЬНУЮ ТЕНЬ



4. РАЗГАДАЙ КОМБИНАЦИЮ ТЕНЕЙ



5. ПРОДОЛЖИ ЛОГИЧЕСКИЙ РЯД.



# СИСТЕМА ТРЕНИРОВКИ РАЗВИТИЯ ЛОГИКИ: День 10

1. ВЫБЕРИ ВЕРНОЕ ЗЕРКАЛЬНОЕ ОТОБРАЖЕНИЕ ОБЪЕКТА



1.

2.

3.





2. ЗАДАЧА НА ПРОСТОЕ УМОЗАКЛЮЧЕНИЕ.


НАТАША ЧИТАЕТ ПИСЬМО ПОДРУГИ.  
КТО ПОСЫЛАЛ?

- НАТАША  
 ПОДРУГА


3. НАЙДИ ПРАВИЛЬНУЮ ТЕНЬ



4. РАЗГАДАЙ КОМБИНАЦИЮ ТЕНЕЙ



5. ПРОДОЛЖИ ЛОГИЧЕСКИЙ РЯД.



# СИСТЕМА ТРЕНИРОВКИ РАЗВИТИЯ ЛОГИКИ: День 11

1. ВЫБЕРИ ВЕРНОЕ ЗЕРКАЛЬНОЕ ОТОБРАЖЕНИЕ ОБЪЕКТА



1.



2.



3.

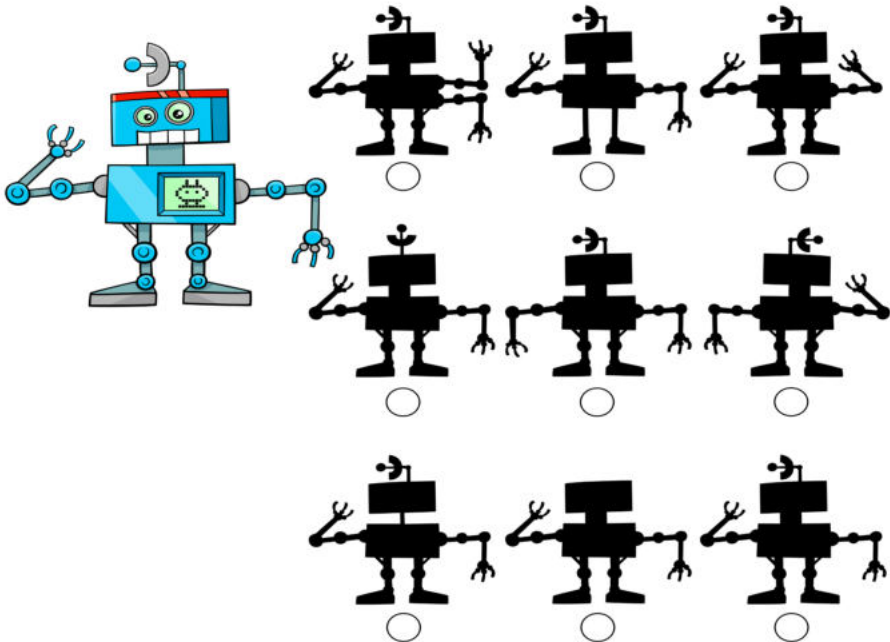


2. ЗАДАЧА НА ПРОСТОЕ УМОЗАКЛЮЧЕНИЕ.


МАРИНУ ЖДЁТ  
ВОВА. КТО  
ОПАЗДЫВАЕТ?

- МАРИНА
- ВОВА

3. НАЙДИ ПРАВИЛЬНУЮ ТЕНЬ



4. РАЗГАДАЙ КОМБИНАЦИЮ ТЕНЕЙ



5. ПРОДОЛЖИ ЛОГИЧЕСКИЙ РЯД.



# СИСТЕМА ТРЕНИРОВКИ РАЗВИТИЯ ЛОГИКИ: День 12

1. ВЫБЕРИ ВЕРНОЕ ЗЕРКАЛЬНОЕ ОТОБРАЖЕНИЕ ОБЪЕКТА



1.

2.

3.



2. ЗАДАЧА НА ПРОСТОЕ УМОЗАКЛЮЧЕНИЕ.

ВОЛК СЪЕЛ ОВЦУ.  
КТО СИЛЬНЕЕ?

- ВОЛК  
 ОВЦА

3. НАЙДИ ПРАВИЛЬНУЮ ТЕНЬ



4. РАЗГАДАЙ КОМБИНАЦИЮ ТЕНЕЙ



5. ПРОДОЛЖИ ЛОГИЧЕСКИЙ РЯД.



# СИСТЕМА ТРЕНИРОВКИ РАЗВИТИЯ ЛОГИКИ: День 13

1. ВЫБЕРИ ВЕРНОЕ ЗЕРКАЛЬНОЕ ОТОБРАЖЕНИЕ ОБЪЕКТА



1.

2.

3.



2. ЗАДАЧА НА ПРОСТОЕ УМОЗАКЛЮЧЕНИЕ.



САША ЗАШЁЛ ЗА ДРУГОМ. КТО БЫЛ ДОМА?

- САША
- ДРУГ

3. НАЙДИ ПРАВИЛЬНУЮ ТЕНЬ



4. РАЗГАДАЙ КОМБИНАЦИЮ ТЕНЕЙ




5. ПРОДОЛЖИ ЛОГИЧЕСКИЙ РЯД.



# СИСТЕМА ТРЕНИРОВКИ РАЗВИТИЯ ЛОГИКИ: День 14

1. ВЫБЕРИ ВЕРНОЕ ЗЕРКАЛЬНОЕ ОТОБРАЖЕНИЕ ОБЪЕКТА



1.       2.       3.



2. ЗАДАЧА НА ПРОСТОЕ УМОЗАКЛЮЧЕНИЕ.

ЗА МИШЕЙ БЕЖИТ ЮРА. КТО ДОГОНЯЕТ?

МИША  
 ЮРА

3. НАЙДИ ПРАВИЛЬНУЮ ТЕНЬ



4. РАЗГАДАЙ КОМБИНАЦИЮ ТЕНЕЙ




5. ПРОДОЛЖИ ЛОГИЧЕСКИЙ РЯД.








# СИСТЕМА ТРЕНИРОВКИ РАЗВИТИЯ ЛОГИКИ: День 15

1. ВЫБЕРИ ВЕРНОЕ ЗЕРКАЛЬНОЕ ОТОБРАЖЕНИЕ ОБЪЕКТА




---

1.       2.       3.







2. ЗАДАЧА НА ПРОСТОЕ УМОЗАКЛЮЧЕНИЕ.



АЛЁША ДОГНАЛ СЛАВУ. КТО ИЗ НИХ БЕЖИТ БЫСТРЕЕ?

АЛЁША  
 СЛАВА







3. НАЙДИ ПРАВИЛЬНУЮ ТЕНЬ

4. РАЗГАДАЙ КОМБИНАЦИЮ ТЕНЕЙ





5. ПРОДОЛЖИ ЛОГИЧЕСКИЙ РЯД.

# СИСТЕМА ТРЕНИРОВКИ РАЗВИТИЯ ЛОГИКИ: День 16

1. ВЫБЕРИ ВЕРНОЕ ЗЕРКАЛЬНОЕ ОТОБРАЖЕНИЕ ОБЪЕКТА



- 1.
- 2.
- 3.



2. ЗАДАЧА НА ПРОСТОЕ УМОЗАКЛЮЧЕНИЕ.

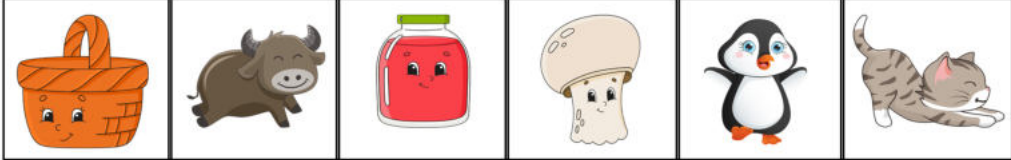
ПЕТЮ РИСОВАЛ  
ЮРА. КТО  
ХУДОЖНИК?

- ПЕТЯ
- ЮРА



3. НАЙДИ ВСЕ ТЕНИ СОВ



4. РАЗГАДАЙ КОМБИНАЦИЮ ТЕНЕЙ




5. ПРОДОЛЖИ ЛОГИЧЕСКИЙ РЯД.




# СИСТЕМА ТРЕНИРОВКИ РАЗВИТИЯ ЛОГИКИ: День 17


1. ВЫБЕРИ ВЕРНОЕ ЗЕРКАЛЬНОЕ ОТОБРАЖЕНИЕ ОБЪЕКТА




1.



2.



3.




2. ЗАДАЧА НА ПРОСТОЕ УМОЗАКЛЮЧЕНИЕ.

Колю ударил  
Витя.  
Кто драчун?

Коля  
 Витя







3. НАЙДИ ПРАВИЛЬНУЮ ТЕНЬ




4. РАЗГАДАЙ КОМБИНАЦИЮ ТЕНЕЙ




5. ПРОДОЛЖИ ЛОГИЧЕСКИЙ РЯД.

# СИСТЕМА ТРЕНИРОВКИ РАЗВИТИЯ ЛОГИКИ: День 18

1. ВЫБЕРИ ВЕРНОЕ ЗЕРКАЛЬНОЕ ОТОБРАЖЕНИЕ ОБЪЕКТА



1.



2.



3.




2. ЗАДАЧА НА ПРОСТОЕ УМОЗАКЛЮЧЕНИЕ.

АВТОБУС ОБОГНАЛ  
ЛОШАДЬ.  
ЧЬЯ СКОРОСТЬ  
БОЛЬШЕ?

- АВТОБУСА  
 ЛОШАДИ

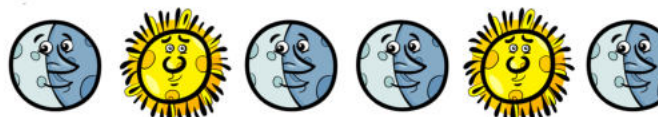
3. НАЙДИ ПРАВИЛЬНУЮ ТЕНЬ



4. РАЗГАДАЙ КОМБИНАЦИЮ ТЕНЕЙ



5. ПРОДОЛЖИ ЛОГИЧЕСКИЙ РЯД.



# СИСТЕМА ТРЕНИРОВКИ РАЗВИТИЯ ЛОГИКИ: День 19

1. ВЫБЕРИ ВЕРНОЕ ЗЕРКАЛЬНОЕ ОТОБРАЖЕНИЕ ОБЪЕКТА




1.



2.



3.





2. ЗАДАЧА НА ПРОСТОЕ УМОЗАКЛЮЧЕНИЕ.

СОБАКУ УКУСИЛА  
ОСА. КТО  
КУСАЛСЯ?

СОБАКА

ОСА

3. НАЙДИ ПРАВИЛЬНУЮ ТЕНЬ



4. РАЗГАДАЙ КОМБИНАЦИЮ ТЕНЕЙ




5. ПРОДОЛЖИ ЛОГИЧЕСКИЙ РЯД.




# СИСТЕМА ТРЕНИРОВКИ РАЗВИТИЯ ЛОГИКИ: День 20


1. ВЫБЕРИ ВЕРНОЕ ЗЕРКАЛЬНОЕ ОТОБРАЖЕНИЕ ОБЪЕКТА




1.



2.



3.










2. ЗАДАЧА НА ПРОСТОЕ УМОЗАКЛЮЧЕНИЕ.


СОЛНЦЕ ЗОЛОТИТ  
ОБЛАКА. ЧТО  
СВЕТИТ?

ОБЛАКА  
 СОЛНЦЕ


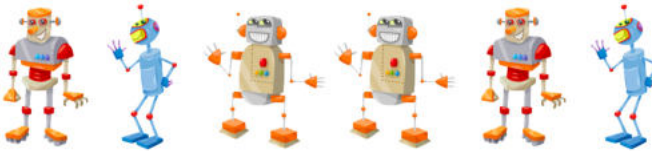


3. НАЙДИ ПРАВИЛЬНУЮ ТЕНЬ

4. РАЗГАДАЙ КОМБИНАЦИЮ ТЕНЕЙ

5. ПРОДОЛЖИ ЛОГИЧЕСКИЙ РЯД.

# СИСТЕМА ТРЕНИРОВКИ РАЗВИТИЯ ЛОГИКИ: День 21


1. ВЫБЕРИ ВЕРНОЕ ЗЕРКАЛЬНОЕ ОТОБРАЖЕНИЕ ОБЪЕКТА




1.



2.



3.




2. ЗАДАЧА НА ПРОСТОЕ УМОЗАКЛЮЧЕНИЕ.

МИША СИЛЬНЕЕ,  
ЧЕМ КОЛЯ.  
КТО СЛАБЕЕ?

МИША

КОЛЯ

3. НАЙДИ ПРАВИЛЬНУЮ ТЕНЬ




4. РАЗГАДАЙ КОМБИНАЦИЮ ТЕНЕЙ



5. ПРОДОЛЖИ ЛОГИЧЕСКИЙ РЯД.




День 1




День 2




День 3



День 9



День 10



День 11



День 12



День 13

Странички для вырезания. Для задания №5  
Совместный проект Солдатовой Елены и Долгушевой Надежды

@MATH\_WARS  
@UVLEKATELNOE\_OBYCHENIE





Странички для вырезания. Для задания №5  
 Совместный проект Солдатовой Елены и Долгушевой Надежды

@MATH\_WARS  
 @UVLEKATELNOE\_OBYCHENIE



**ОТВЕТЫ НА 1 ЗАДАНИЕ: ВЫБЕРИ ВЕРНОЕ ЗЕРКАЛЬНОЕ ОТОБРАЖЕНИЕ ОБЪЕКТА**

ДЕНЬ 1: 2

ДЕНЬ 12: 1

ДЕНЬ 2: 1

ДЕНЬ 13: 1

ДЕНЬ 3: 3

ДЕНЬ 14: 1

ДЕНЬ 4: 3

ДЕНЬ 15: 2

ДЕНЬ 5: 1

ДЕНЬ 16: 2

ДЕНЬ 6: 2

ДЕНЬ 17: 2

ДЕНЬ 7: 3

ДЕНЬ 18: 1

ДЕНЬ 8: 3

ДЕНЬ 19: 3

ДЕНЬ 9: 2

ДЕНЬ 20: 2

ДЕНЬ 10: 1

ДЕНЬ 21: 3

ДЕНЬ 11: 2

СТРАНИЧКИ ДЛЯ ВЫРЕЗАНИЯ. ДЛЯ ЗАДАНИЯ №5  
СОВМЕСТНЫЙ ПРОЕКТ СОЛДАТОВОЙ ЕЛЕНЫ И ДОЛГУШЕВОЙ НАДЕЖДЫ

@MATH\_WARS  
@UVLEKATELNOE\_OBYCHENIE

# СИСТЕМА ТРЕНИРОВКИ ЛОГИЧЕСКОГО МЫШЛЕНИЯ ЗА 21 ДЕНЬ ДЛЯ ДЕТЕЙ 5 +.

## 1. ЗЕРКАЛЬНОЕ ОТОБРАЖЕНИЕ

Если вы никогда не говорили про отображение с ребёнком, самое время начать.

- Покажите ребёнку зеркало.
- Обратите внимание, что зеркало:

- не меняет цвет глаз или одежды;
- не делает нас больше или меньше;
- но все правое делает левым и наоборот.

Обязательно скажите, что отражение симметрично нам. А зеркало можно назвать осью симметрии. То есть, любая прямая, которая ведёт себя как зеркало и есть ось симметрии.

### Инструкция:

1. Внимательно рассмотрите картинку.
2. Определите, где должна находиться ось симметрии.
3. Обязательно обратите внимание на то, что если деталь к оси находится близко (например, наш нос), то и в отражении эта деталь будет ближе к оси.
4. Найдите верный ответ из трёх представленных в задании.

## 5. ЛОГИЧЕСКИЙ РЯД

### Инструкция:

1. Внимательно рассмотрите каждый ряд.
2. В свободные клеточки поместите (нарисуйте) такие объекты, которые продолжат или дополнят данный логический ряд

# СИСТЕМА ТРЕНИРОВКИ РАЗВИТИЯ ЛОГИКИ. Для детей от 5 лет.

Совместный проект. Авторы:  
Елена Солдатова и Надежда Долгушева.



@UVLEKATELNOE\_OBYCHENIE

@SOLDATOVA\_ELENA

@MATH\_WARS

#НИ\_ДНЯ\_БЕЗ\_МАТЕМАТИКИ

Материал **БЕСПЛАТНЫЙ** и предназначен только для  
личного пользования.

**ЗАПРЕЩЕНО** распространение и публикация данного материала  
на сторонних ресурсах!!!